

PROFESSOR: **GABRIEL**
DISCIPLINA: **GEOGRAFIA**



1

URBANIZAÇÃO BRASILEIRA

- **Urbanização** é o processo de transição de uma sociedade rural para o ambiente urbano (cidade).
- Representa, assim, o aumento da população das cidades, e sua expansão em relação aos habitantes das áreas rurais (êxodo).

Êxodo rural



2

- **O que é cidade?**

- Cidade é uma área mais densamente povoada, caracterizada pela urbanização; pela concentração de atividades econômicas dos setores secundário e/ou terciário*; e também por aspectos e influências culturais próprias



+ Fluxos

3

- **O que é cidade?**

- No mais, uma cidade é uma área urbanizada, que se diferencia de vilas e outros espaços urbanos através de vários critérios: população, infraestrutura, organização, serviços, entre outros.
- No Brasil o conceito de cidade assume um caráter político-administrativo, isto é, a cidade é a sede do município (cidade X município).

4

• O que é cidade?

- As cidades podem ser:
- naturais: resultantes de um processo de aglomeração e posterior desenvolvimento;
- planejadas: resultantes da ação do homem de forma premeditada sobre o espaço, construindo a infraestrutura da cidade e depois ocupando-a.



5


“Muros sociais”
ou
Enclaves fortificados



6

• Surgimento dos centros urbanos:

- Embora as primeiras cidades tenham aparecido há mais de 3.500 anos a.C. (Mesopotâmia, Nilo, Mediterrâneo), o processo de urbanização moderno teve início no século XVIII, em consequência da Revolução Industrial, desencadeada inicialmente na Europa.

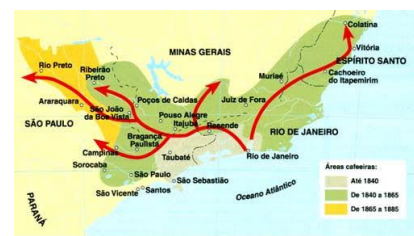


Industrialização -> urbanização -> êxodo rural

7

• Urbanização brasileira:

- Ciclo da cana, séc. XVI (ocupação litoral);
- Ciclo do ouro no séc. XVII/XVIII (interiorização);
- Ciclo do café, séc. XVIII



A expansão do café pela região Oeste de São Paulo.

8

- **Urbanização brasileira:**

- Com o crescimento da economia cafeeira, e fim da escravidão, o processo de urbanização se intensificou com a chegada dos imigrantes, principalmente em São Paulo.
-
- E mais ainda após a instalação de indústrias de bens não duráveis (início do séc XX), promovida pelos oligarcas do café.



9

- **Urbanização brasileira:**

- A partir de Getúlio Vargas (1930) o governo inicia o investimento massivo na indústria nacional, sobretudo com a criação das indústrias de base, ex.: CSN – Companhia Siderúrgica Nacional, a Vale do Rio Doce e a Petrobrás.



 Companhia
Vale do Rio Doce

Antes

 VALE

Depois

10

• Urbanização brasileira:

- JK - 50 anos em 5:
- Criação de Brasília e interiorização do território nacional (migração);
-
- Grande desenvolvimento das áreas urbanas e escassez de investimentos nas áreas rurais, o que potencializou o êxodo rural.

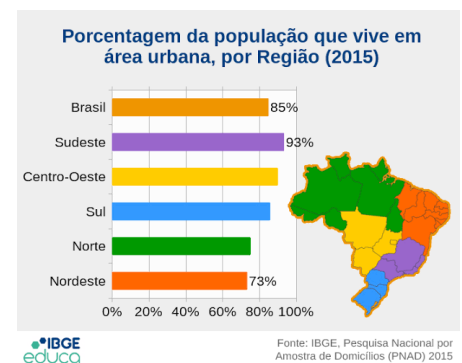
+ Revolução Verde (1960 – 1970)



11

• Urbanização brasileira:

- Até a década de 1950 a maioria da nossa população ainda vivia no meio rural. Somente a partir da década de 1960 é que as cidades passam à liderança em relação ao campo.
-
- Atualmente cerca de 84% da população vive em áreas urbanas.



12

- **Urbanização desordenada:**

- Em comparação com países desenvolvidos, a urbanização no Brasil foi tardia, rápida e desordenada. Isso, aliado à falta de políticas públicas em variados setores, gerou problemas sociais e ambientais diversos.



- Desigualdades sociais: o Brasil apresenta 0,54 pelo índice de Gini;

- Violência: narcotráfico;

- Favelização (inchaço urbano/ocupação desordenada);



13

- **Urbanização desordenada:**

- Saturação meios de transporte/trânsito (mobilidade urbana);



- Falta de saneamento básico;

- Poluições (resíduos sólidos, efluentes industriais, poluição atmosférica, sonora, etc.);



- Ilhas de calor;

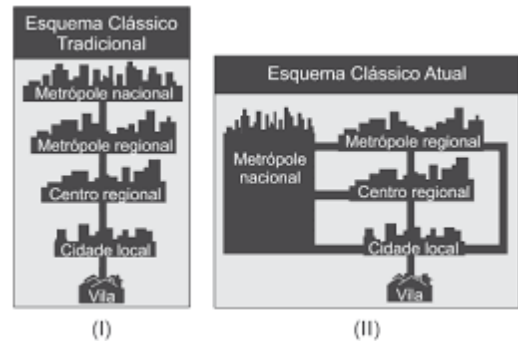
- Chuva ácida (óxidos de enxofre e nitrogênio).

14

- **Hierarquia urbana:**

- A hierarquia urbana revela-se nas relações de dependência econômica exercidas por algumas cidades sobre outras, formando uma rede de cidades dependentes e economicamente interligadas entre si.

Rede urbana: cidades interligadas por uma rede de fluxos



15

- **Funções das cidades:**

- Rurais;
- Industriais;
- Turísticas;
- Militares;
- Administrativas;
- Religiosas;
- Multifuncionais.



16

- **Hierarquia urbana:**

- Metrôpoles
- São grandes aglomerações urbanas (cidades) que exercem sobre seu entorno ou até sobre cidades distantes uma forte influência em termos de economia, comércio, infraestrutura e cultura, o que garante a elas um determinado grau de centralidade/polarização*.

Panorama das Metrôpoles brasileiras e suas regiões de influência
Por população

	Capitais Regionais	População	Área (km²)	PIB total (R\$ 1000)
■ São Paulo/SP	26	49.295.747	688.624,1	2.088.833.313
■ Rio de Janeiro/RJ	5	17.296.239	48.796,4	642.660.440
■ Brasília/DF	8	11.649.359	1.753.408,9	457.259.929
■ Recife/PE	10	23.601.254	345.048,8	384.805.000
■ Belo Horizonte/MG	12	21.069.799	571.747,7	546.853.629
■ Fortaleza/CE	5	20.109.664	764.171,9	272.713.836
■ Salvador/BA	6	14.471.227	479.965	253.806.046
■ Curitiba/PR	5	11.654.092	210.851,5	409.568.832
■ Porto Alegre/RS	6	11.293.956	266.877,9	407.369.834
■ Belém/PA	4	9.335.660	1.374.601,9	151.895.774
■ Goiânia/GO	3	8.269.552	964.430,5	220.847.808
■ Florianópolis/SC	10	7.138.738	96.954,4	259.484.525
■ Manaus (AM)	1	4.490.260	1.624.605,2	98.719.516
■ Vitória/ES	1	4.468.927	67.117,8	117.568.317
■ Campinas/SP	1	4.396.180	14.073	214.983.509

■ Grande Metrópole Nacional
 ■ Metrôpoles nacionais
 ■ Novas Metrôpoles

Fonte: Regiões de Influência das Cidades 2018

AGÊNCIA IBGE NOTÍCIAS

17

- **Hierarquia urbana:**

- Metrôpoles regionais
- São cidades que têm referência econômica em nível local. Geralmente realizam a intermediação do fluxo de transportes e capitais entre cidades médias e pequenas com os principais centros nacionais urbanos. Ex.: Goiânia, Belém e Campinas.



18

- **Hierarquia urbana:**

- Metrôpoles nacionais
- Exercem influência política e econômica dentro das cidades e estados do próprio país; ex.: Salvador, Fortaleza, Belo Horizonte.



19

- **Hierarquia urbana:**

- Metrôpoles globais

São aquelas que têm grande influência político-econômica e na rede de transportes por exemplo tanto nas cidades do seu país quanto a nível mundial.

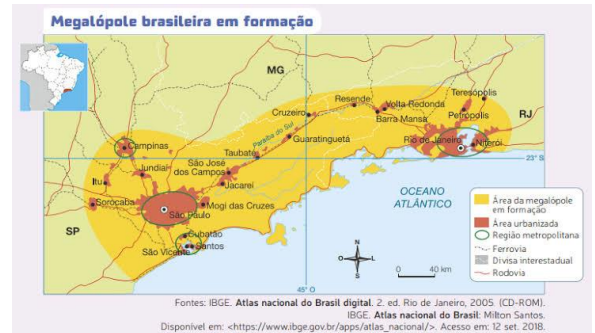
Além de serem sedes das maiores empresas e instituições do mundo. Ex.: RJ e SP.



20

- **Hierarquia urbana:**

- Megalópole
- A formação de megalópoles ocorre quando os fluxos de pessoas, capitais, informações, mercadorias e serviços entre duas metrópoles e suas regiões metropolitanas estão plenamente integrados. Ex.: Eixo Rio – São Paulo (macrometrópole).



21

- **Hierarquia urbana:**

- Megacidades
- São grandes centros urbanos que concentram grande quantidade de habitantes. Segundo a ONU, são aquelas cidades com mais de 10 milhões de habitantes.
- Grande parte das megacidades fazem parte de países emergentes ou subdesenvolvidos.
- Ex.: Daca (Bangladesh).

Magalopole x megacidade

22

- **Hierarquia urbana:**

- Região metropolitana
- Conjunto de municípios limítrofes e integrados a uma metrópole, com serviços públicos e infraestrutura comuns, havendo fomento de políticas públicas em planejamento, integração e execução de atividades públicas de interesse comum às cidades que integram essa região.
- Ex.: RMS.

Movimento pendular



23

Gentrificação

É um processo caracterizado pela valorização de determinada área urbana, que implica no aumento do custo de vida na região. Assim, há uma mudança no perfil dos moradores: ocupação dos mais ricos e “expulsão” dos mais pobres.



24

- **Gentrificação:**

- Relaciona-se também com projetos de especulação imobiliária. Logo, tende a ocorrer em bairros centrais, históricos, ou com potencial turístico de reuso adaptativo. Ex.: Copa do mundo.



25

Contingente populacional brasileiro:

O IBGE (dados de 2021) estima população brasileira em 212,7 milhões antes de Censo, dos quais 51,1% são mulheres e 48,9% são homens.

País populosos x povoado

A Região Norte, por exemplo, possui apenas 4,1 hab./km². O processo histórico de ocupação, a distribuição populacional acontece de forma desigual pelas regiões.



26

- **Contingente populacional brasileiro:**

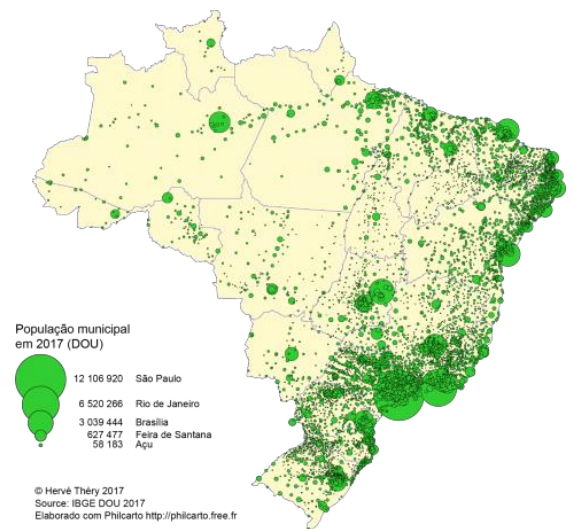
- A região Sudeste do país tem a maior parcela da população brasileira – 42% do total de pessoas que vivem no país. O Nordeste vem em segundo, com 27% dos habitantes do país, o que corresponde a 57 milhões de pessoas. Na sequência está a região Sul – 14,2%.



27

- **Contingente populacional brasileiro:**

- As áreas menos populosas do Brasil são a região Norte (8,8%), e a região Centro-Oeste (7,8%).



28

- **Contingente populacional brasileiro:**

- Aumenta população que se autodeclara preta. Representando 47% da população, sendo os outros 43% brancos.



29

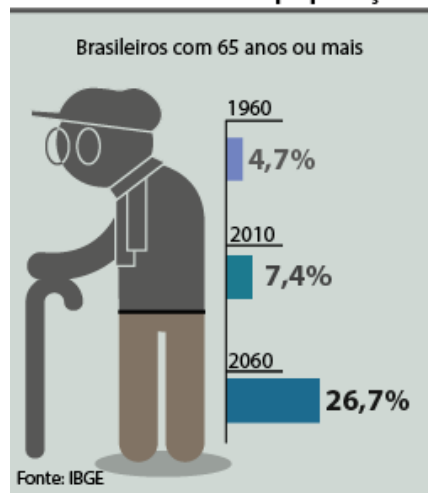
- **Contingente populacional brasileiro:**

- Há continuidade de envelhecimento populacional. A parcela de pessoas com 65 anos ou mais, no total da população, subiu de 7,7% em 2012 para 10,2% em 2021.

Cresce a expectativa de vida

- Já faixas etárias mais jovens mostraram diminuição de fatia, no total populacional.

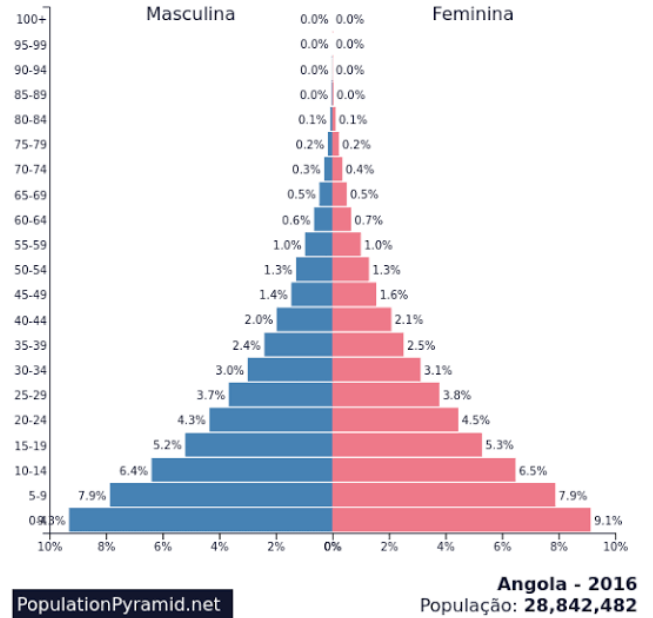
Envelhecimento da população



30

Pirâmide Etária:

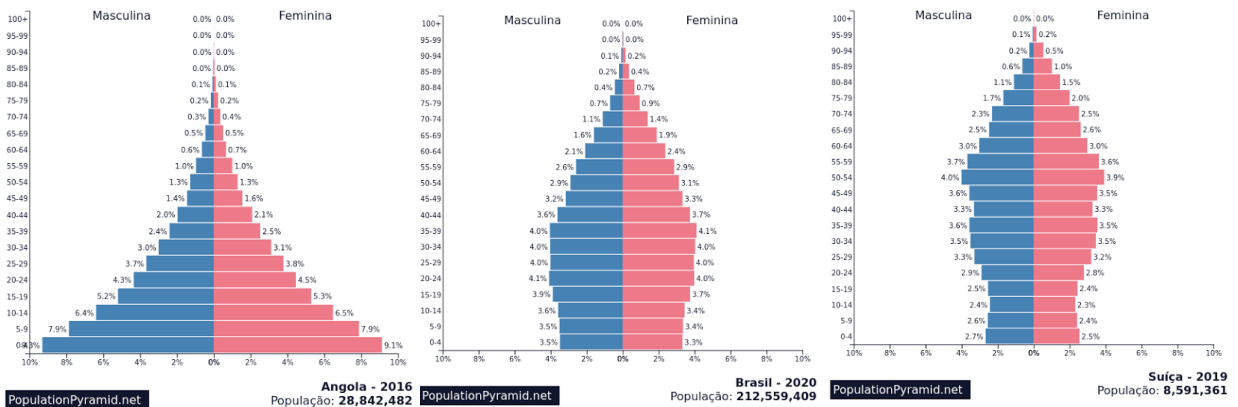
- Indicadores demográficos:
- Taxa de natalidade e mortalidade;
- Expectativa de vida;
- PEA;
- Janela demográfica.



31

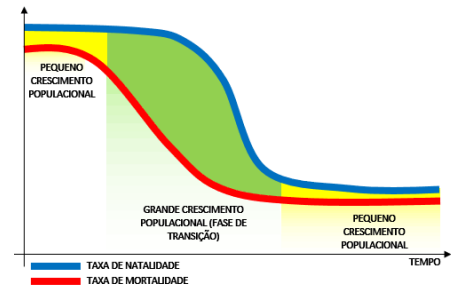
• Contingente populacional brasileiro:

• Pirâmide Etária:



32

- **Contingente populacional brasileiro:**
- Outros indicadores demográficos:
- Crescimento vegetativo ou natural: diferença entre natalidade e mortalidade;
- Taxa de fertilidade (filhos por mulher);
- Emigração e imigração.



33


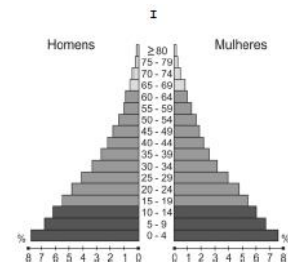
- Ano: 2019 Banca: FCC Órgão: SABESP
- Considere as afirmações sobre a urbanização brasileira.
- I. O processo de urbanização no Brasil teve início no século XX e teve a industrialização e o êxodo rural como fatores desencadeadores do processo.
- II. A partir de 1950, mais da metade da população das regiões Sudeste e Nordeste já se encontrava em áreas urbanas, onde era maior o número de empregos e serviços como saúde, educação e transporte.
- III. Atualmente, mais de 80% da população brasileira vive em áreas urbanas, percentual semelhante ao de muitos países desenvolvidos.
- Está correto o que se afirma APENAS em:
- Alternativas:
- A II. B I. C I e II. D II e III. E I e III.

34

- Ano: 2019 Banca: FCC Órgão: SABESP
-
- Em 29 de agosto de 2018, o IBGE (Instituto Brasileiro de Geografia e Estatística) apresentou os seguintes dados:
- População brasileira ultrapassa 208 milhões de pessoas. Os três estados mais populosos estão no Sudeste; enquanto os cinco menos populosos, no Norte do País. (Disponível em: www.brasil.gov.br)
- A respeito dos dados apresentados, é correto afirmar que a população brasileira
-
- Alternativas
- A é formada, predominantemente, por jovens.
- B está mal distribuída pelo território nacional.
- C destaca-se como a maior do continente americano.
- D cresce de 2 a 3% ao ano, desde o início da década.
- E apresenta reduzida mobilidade inter-regional.

35

- Ano: 2019 Banca: FCC Órgão: SABESP
- Analise as pirâmides para responder à questão.
- Após a análise é correto afirmar que a pirâmide
- Alternativas
-
- A. I identifica a população de uma região com fraco desenvolvimento, onde há forte taxa de natalidade e baixa expectativa de vida.
- B. I caracteriza a população de uma região que estimula a natalidade com o objetivo de renovar a população e atingir o pleno desenvolvimento.
- C. II caracteriza a população de uma região em desenvolvimento em contínuos processos de emigração que reduzem os grupos jovens e adultos.
- D. II identifica a população de uma região desenvolvida que, devido à escassez de recursos, promove forte controle de natalidade.
- E. II identifica a população de uma região com economia emergente que tem passado por rápidas transformações sociais e demográficas.



(Disponível em: <https://altdeplayer.com.br>. Acesso em 22.mar.2019)

36

- Ano: 2017 Banca: FCC Órgão: SABESP
- Considere as afirmações abaixo sobre as migrações internas no Brasil.
- I. No Brasil, a migração interna foi mais intensa entre as décadas de 1990 e 2000, com destaque para o deslocamento do campo para a cidade – o êxodo rural.
- II. O Centro-Oeste e o Norte são, atualmente, as regiões que recebem maior número de migrantes que são atraídos pelas novas atividades, entre as quais o agronegócio.
- III. Nestas últimas décadas tem se tornado comum a migração de retorno, ou seja, o deslocamento de pessoas para sua região de origem, após ter migrado. Na região Nordeste se observa o retorno de milhares de migrantes.
- Está correto o que se afirma APENAS em Alternativas
- A II. B I e II. C I e III. D II e III. E III.

37

- Ano: 2021 Banca: CESPE / CEBRASPE Órgão: IBGE



- Tendo a figura precedente como motivadora, assinale a opção correta, a respeito da dinâmica da população brasileira.
- Alternativas
- A. A diminuição da taxa de fecundidade, o aumento da expectativa de vida e o envelhecimento da população brasileira têm provocado mudanças nas dinâmicas da população e na composição das famílias.
- B. A composição da família brasileira em 2020 é do tipo monoparental: um casal e um filho.
- C. A urbanização da sociedade não impactou as dinâmicas demográficas do Brasil.
- D. No transcorrer da evolução histórica, a organização familiar permanece inalterada, tanto no que se refere a sua tipologia quanto ao número de integrantes.
- E. A família brasileira atual é do tipo nuclear, ou seja, um casal e dois filhos.

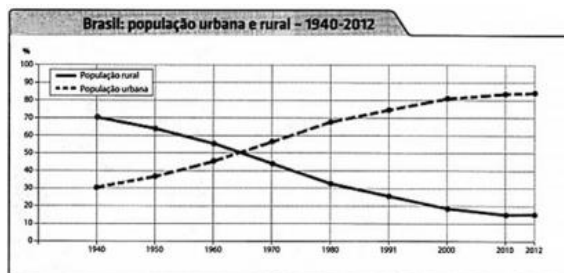
38

- Ano: 2021 Banca: CESPE / CEBRASPE Órgão: IBGE
- Tendo a figura anterior como referência sobre a dinâmica da população brasileira, assinale a opção correta.
- A. O território brasileiro apresenta zonas de concentração intensa de população ao longo dos principais rios da bacia Amazônica.
- B. A interiorização da ocupação do território se revela na região Nordeste, que apresenta índices elevados de concentração demográfica no interior e a diminuição da população no litoral.
- C. A figura apresenta a concentração de população nas diferentes regiões brasileiras, que se mantém inalterada desde a segunda metade do século XX.
- D. As faixas de fronteira apresentam uma concentração demográfica em expansão, principalmente ao sul e norte do país.
- E. A região concentrada corresponde à área de maior concentração de população no Brasil e também de maior infraestrutura, sendo formada pelo Sudeste e Sul do país.



39

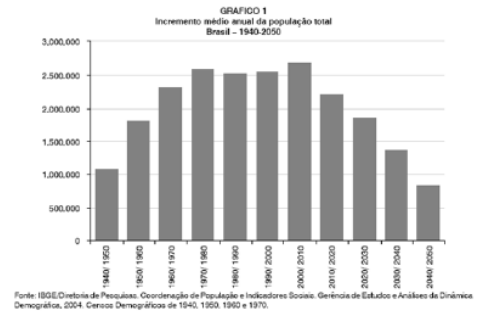
- Ano: 2021 Banca: CESPE / CEBRASPE



- O gráfico apresentado demonstra o comportamento percentual das populações urbana e rural no Brasil. Tendo esse gráfico como referência inicial, assinale a opção correta.
- A O crescimento da população urbana se deu em virtude de o crescimento vegetativo das cidades ser historicamente maior que a taxa de reprodução da população rural.
- B A redução da população rural se deveu aos altos índices de mortalidade no campo, devido às precárias condições socioeconômicas e à falta de saneamento básico.
- C O comportamento do gráfico pode ser explicado pelo êxodo rural, causado pela modernização do campo e pelas oportunidades de emprego surgidas no setor urbano.
- D O cruzamento das duas linhas do gráfico responde pela indução governamental que levou a maior parte da população do campo para as cidades.
- E A análise do gráfico permite inferir que a tendência é que as duas linhas se cruzem em um futuro próximo, devido à redefinição nas relações entre o campo e a cidade.

40

- Ano: 2021 Banca: CESPE / CEBRASPE Órgão: IBGE
- O gráfico precedente mostra o crescimento populacional no Brasil a partir dos anos 40 do século passado e as tendências a partir do último censo (2010). Considerando os dados do gráfico, assinale a opção correta sobre crescimento populacional.
-
- A O crescimento da população brasileira tende a diminuir no século XXI em razão do aumento da expectativa de vida, do envelhecimento da população e da queda drástica das taxas de natalidade.
- B O crescimento populacional brasileiro apresenta uma tendência de equilíbrio para a primeira metade do século XXI.
- C No que se refere ao crescimento populacional ao longo do século XX, manteve-se uma distribuição equilibrada entre a população rural e a urbana no Brasil.
- D Na medida em que o Brasil moderniza a sua estrutura produtiva, aumenta-se a expectativa de vida da população brasileira, bem como o ritmo do crescimento vegetativo.
- E O Brasil passou por uma explosão demográfica no século XX e as projeções indicam a continuidade desse processo no século XXI.

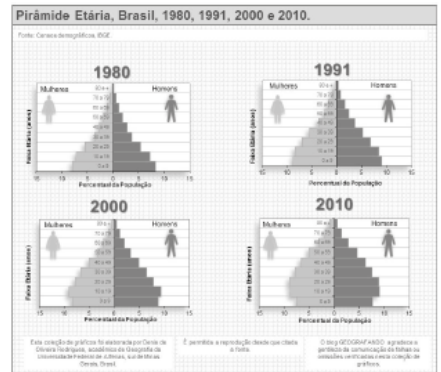


41

- Ano: 2015 Banca: IF-BA Órgão: IF-BA
- Algumas mudanças no padrão demográfico brasileiro se intensificaram a partir da metade da década de 1970, quando a queda na taxa de natalidade, associada à baixa mortalidade, iniciou o processo de transição demográfica
- [...]. As principais causas dessa mudança devem-se às transformações econômica e cultural, às migrações, à urbanização e à reorganização na composição e no tamanho da família brasileira.
- Sobre a população brasileira, é correto afirmar que:
 - A houve um aumento na taxa de fecundidade.
 - B houve um crescimento na taxa de mortalidade infantil.
 - C o percentual de idosos é menor que nas nações desenvolvidas..
 - D a taxa de natalidade vem aumentando aceleradamente nas últimas décadas.
 - E a expectativa de vida tem diminuído devido ao surgimento de bactérias altamente resistentes.

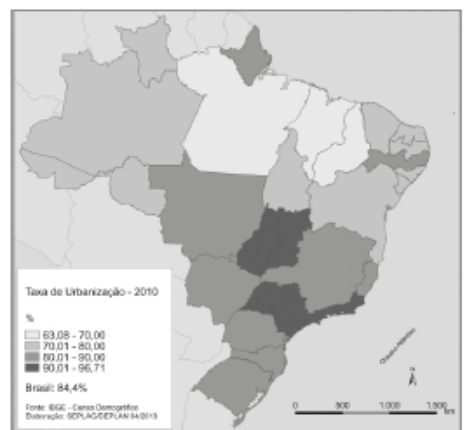
42

- Ano: 2017 Banca: IF-BA Órgão: IF-BA
- Sobre a estrutura etária da população Brasileira, apresentada na figura abaixo, é correto afirmar.
- A A difusão das práticas anticonceptivas durante os anos 1980 resultou no aumento da taxa de fecundidade, fato que se refletiu no alargamento da base da pirâmide etária nas décadas seguintes.
- B Fatores como o aumento do número de casais sem filhos, a intensa participação da mulher no mercado de trabalho e o acesso aos métodos contraceptivos influenciaram diretamente no estreitamento da base da pirâmide etária.
- C Os homens tendem a ter uma expectativa de vida mais longa quando comparada com as mulheres, essa característica é observada ao comparar o topo das pirâmides etárias.
- D A estrutura etária da população brasileira, revelada pelo gráfico, identifica que o país possui uma população predominantemente idosa.
- E A taxa de fecundidade das brasileiras vem aumentando ao longo do período de 1980-2010.



43

- Ano: 2016 Banca: IF-BA Órgão: IF-BA
- Observe o mapa:
- As informações apresentadas apontam que:
- A A urbanização é distribuída em todo o território nacional com a mesma intensidade, pois é uma tendência global de desenvolvimento.
- B Com a urbanização, o campo e a vida rural perdem totalmente o sentido e devem se extintos, substituídos pela indústria.
- C O Sudeste, com o destaque para os estados de São Paulo e Rio de Janeiro, é altamente urbanizado e também é conhecido como Região Concentrada.
- D A urbanização do Brasil não tem relação com a localização e a história econômica do país.
- E A Região Norte não experimenta nenhum grau de urbanização nem industrialização. Sua ocupação é restrita à preservação da Floresta Amazônica.



Fonte: Globo.com/Educação (Agosto de 2016).

44

Ano: 2015. Banca: FGV Órgão: PGE-RO


- A ocupação e a exploração da região norte, durante a 1ª metade do século XX, pode ser explicada pelo grande fluxo de mão de obra migrante. Entre 1939 e 1945, com o Brasil envolvido, direta ou indiretamente, na II Guerra Mundial, ocorreu um forte afluxo de migrantes para a região norte, devido à necessidade da ampliação da extração de borracha.
- Em relação aos migrantes responsáveis pelo desenvolvimento da produção da borracha, é correto afirmar que:
 - A os gaúchos formaram a grande maioria dos migrantes da região norte;
 - B os paulistas buscaram um novo eldorado com a ocupação da região norte;
 - C a presença de nordestinos foi a marca desse processo em função da seca no nordeste;
 - D os catarinenses em busca de terras baratas formaram o grupo majoritário;
 - E a população mestiça prevaleceu, oriunda da região centro-oeste.

45

- Urbanização brasileira:



Retirantes (1944), de Portinari



46